

Задания Региональной олимпиады для дошкольников

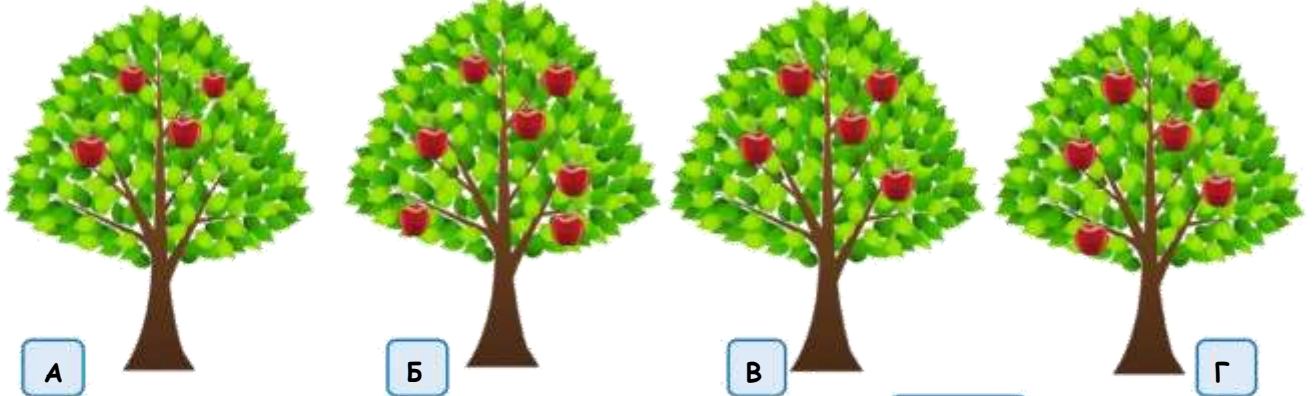
«Исследуй! Узнавай! Стремись!»




Ф.И. _____ Возраст _____
О.О. _____
Ф.И.О., должность, телефон куратора _____

«Размышляем и считаем»

ЗАДАНИЕ №1. Сосчитайте, сколько яблочек на каждой яблоне. На какой из яблонь больше всего яблок?



ЗАДАНИЕ №2. Выберите картинку, которая подходит к примеру $4 + 2$



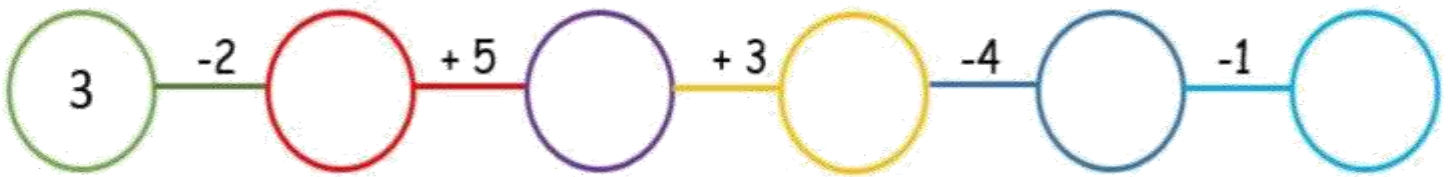
ЗАДАНИЕ №3. Рассмотрите картинки и ответьте на вопросы:



- А Каким по счету стоит слон?
- Б Кто стоит между лошадкой и морским котиком?
- В Кто из артистов стоит третьим?
- Г Кто из артистов стоит первым, если считать справа?

ЗАДАНИЕ №4. Заполните кружки цифрами так, чтобы примеры были верными.

В бланке для ответов запишите число, которой получилось в конце примера.



ЗАДАНИЕ №5. В каком ряду все числа больше 6?

А 4, 5, 9

Б 5, 7, 8

В 7, 8, 9

Г 9, 3, 8

ЗАДАНИЕ №6. Сосчитайте, сколько предметов нарисовано в каждом круге. Разделите каждый из кругов так, чтобы в каждой из частей было по три предмета. Сколько частей получилось?

В бланке для ответов запишите количество частей (например, 1, 2)



ЗАДАНИЕ №7. У Миши было 7 конфет. Он встретил двух своих друзей, и они втроем съели по одной конфете. Сколько конфет осталось у Миши?



ЗАДАНИЕ №8. Каких игрушек на рисунке больше и на сколько?



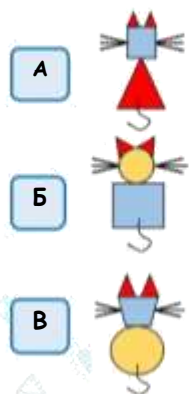
А Машинок больше на 2

Б Машинки больше на 1

В Пирамидок меньше на 3

Г Пирамидок и машинок поровну

ЗАДАНИЕ №9. Посмотрите на картинки и догадайтесь, какая кошка должна быть в пустой клеточке:



		?